




绿色印刷产品 服务热线：4000-555-100



全心全意 品质为真

QUANPIN ZHINENGZUOYE

· SUYANG CEPINGJUAN ·



总定价：46.80元

印刷质检码20241800

全品智能作业 素养测评卷

主编 肖德好

高中地理²
必修第二册

XJ

天津出版传媒集团
天津人民出版社

新教材



用全品 让未来拥有更多选择的权利



CONTENTS

单元素养测评卷(一) [范围: 第一章]	卷1
单元素养测评卷(二) [范围: 第二章]	卷3
阶段滚动测评卷(一) [范围: 第一、二章]	卷5
单元素养测评卷(三) [范围: 第三章]	卷9
单元素养测评卷(四) [范围: 第四章]	卷11
阶段滚动测评卷(二) [范围: 第三、四章]	卷13
单元素养测评卷(五) [范围: 第四章]	卷17
考前综合测评卷(一) [范围: 第一~五章]	卷19
考前综合测评卷(二) [范围: 第一~五章]	卷23
参考答案	卷27

全品智能作业

素养测评卷

主编 肖德好

高中地理²
必修第二册
XJ

天津出版传媒集团
天津人民出版社

单元素养测评卷(一)

范围:第一章

本试卷分第Ⅰ卷(选择题)和第Ⅱ卷(非选择题)两部分。第Ⅰ卷45分,第Ⅱ卷55分,共100分,考试时间45分钟。

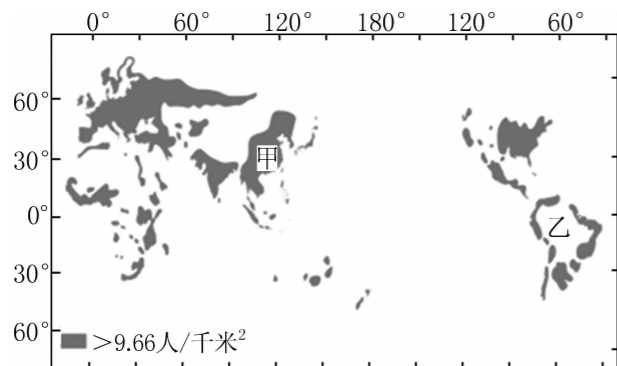
第Ⅰ卷(选择题 共45分)

一、选择题(共15小题,每题3分,共45分)

[2021—2022·山西太原期末考试] 2021年5月11日,第七次全国人口普查结果公布。与第六次人口普查(2010年)相比,山西省常住人口减少了79.65万人,太原市增加了110.25万人。据此完成1~2题。

1. 近十年来,山西省 ()
- A. 省内人口流动减少
B. 劳动力需求量减少
C. 迁出人口数量增多
D. 外来务工人员增多
2. 影响山西省常住人口变化的主要因素是 ()
- A. 生育观念
B. 年龄结构
C. 医疗条件
D. 经济发展

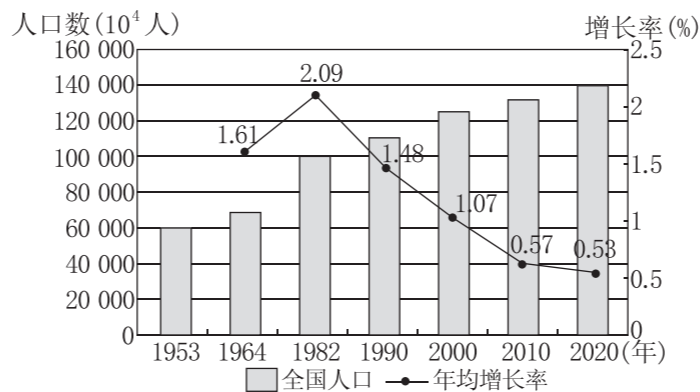
[2021—2022·河北唐山期末] 图D1-1所示人类大陆图(陆地和海洋均被隐去)用以揭示世界人口分布情况,阴影部分为人类分布密集区,其中面积较大的人类分布密集区被称为人类大陆。据此完成3~4题。



图D1-1

3. 从大洲来看,甲地位于 ()
- A. 亚洲
B. 大洋洲
C. 非洲
D. 北美洲
4. 乙地所处地形区人口分布十分稀疏,主要原因是该地 ()
- A. 高寒缺氧
B. 冰川广布
C. 过于湿热
D. 地表崎岖

[2021—2022·河南开封期末] 2021年第七次全国人口普查结果显示:全国总人口数量为14.1178亿人,平均每个家庭的人口为2.62人,比第六次人口普查减少了0.48人。数据公布之后,我国进一步优化生育政策,实施了一对夫妻可以生育三个子女的政策及配套支持措施。图D1-2为我国历次人口普查全国人口及平均增长率统计。据此完成5~6题。



图D1-2

5. 图中体现的我国人口发展特点是 ()
- A. 年均人口增长率逐年下降
B. 人口素质偏低
C. 人口总量持续增长
D. 人口结构趋于合理
6. 影响我国第七次人口普查结果中家庭规模变化的主要因素有 ()
- ①人口流动频繁 ②住房条件改善 ③人均寿命延长 ④年轻人婚后独立居住
- A. ①②③
B. ①③④
C. ①②④
D. ②③④

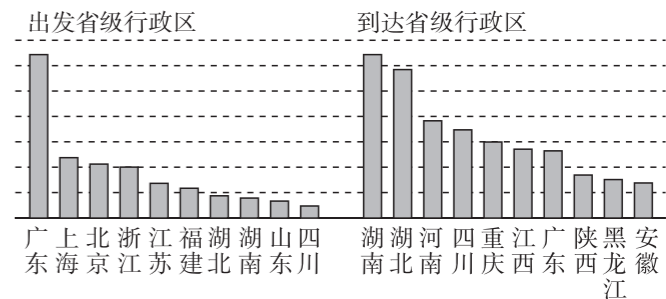
近年来,离开“北上广”成为一个热门话题。2017年第二季度,“北上广”迁出的人群主要流向了重庆、杭州、成都、厦门、苏州等地。据此完成7~8题。

7. 与“北上广”相比,重庆等地 ()
- A. 生活服务设施较完善
B. 房地产价格较低
C. 城市的拥堵指数更高
D. 人均消费水平更高
8. 为吸引和留住从“北上广”迁出人群中的创业人员,重庆等地政府部门应当重点 ()
- A. 发展劳动力需求大的产业
B. 加强对迁入人口的职业培训
C. 提高行政效率,加大政策优惠
D. 加强电力等基础设施的建设

[2021—2022·重庆万州期末考试] 《天津市城市总体规划(2005—2020年)》里指出,到2020年,天津市城镇建设用地规模控制在1450平方千米以内,天津市常住人口控制在1350万人以内。这“1350万”是让天津人“活得舒服”的指标。据此回答9~10题。

9. 天津市提出的“1350万”是指 ()
- A. 环境人口容量
B. 人口合理容量
C. 资源环境承载力
D. 土地承载力
10. 针对天津市的人口状况,天津市今后应该 ()
- A. 鼓励生育,解决人口老龄化
B. 挖掘资源潜力,扩大生产规模
C. 鼓励人口迁入,弥补劳动力不足
D. 建立公平社会秩序,提高生活质量


图D1-3为2019年春运十大出发地和十大目的地统计图。读图,完成11~12题。



图D1-3

11. 导致每年春运期间人口大规模迁徙的主导因素是 ()
- A. 自然灾害
B. 国家政策
C. 传统文化
D. 经济危机
12. 广东、上海、北京、浙江成为春运旅客集中出发地的主要原因是 ()
- ①经济发展水平高,居民收入高 ②历史文化遗产好,文化先进
③位于季风气候区,气候适宜 ④人口合理容量大,开放程度高
- A. ①②
B. ①④
C. ②③
D. ③④

[2021—2022·山东潍坊临朐实验中学开学考试] 云瀑指云雾顺风向翻过山岭,受重力等因素影响,形成白云倾泻成瀑的景观(如图D1-4)。怀化某研学小组去川西牛背山等地野外考察,有幸欣赏到比水瀑更为壮观的云瀑景色,当云瀑消散时,他们还发现“人居半山,一派桃红柳绿”的田园景象。据此完成13~15题。



图D1-4

13. 与“白云倾泻成瀑”相关的是 ()
- A. 晴朗的午后山风 B. 湿润的清晨山风
C. 晴朗的黄昏谷风 D. 湿润的夜晚谷风
14. 据材料推断,“人居半山中”可能是因为 ()
- A. 环境优美,水源充足
B. 地势和缓,便于农耕
C. 植被茂盛,风力较小
D. 气候凉爽,温度适宜
15. 云瀑比水瀑更为壮观的主要原因是 ()
- A. 出现在高山峡谷 B. 云层广度和厚度大
C. 云雾移动速度快 D. 暖空气上升强烈

请将选择题答案填入下表:

题号	1	2	3	4	5	6	7	8
答案								
题号	9	10	11	12	13	14	15	总分
答案								

第 II 卷 (非选择题 共 55 分)

二、非选择题(共 2 小题,共 55 分)

16. (25 分)结合图文材料,完成下列问题。

材料一 2015 年 9 月,联合国发布数据称,欧洲迎来“战后最大难民潮”,源源不断的难民主要来自叙利亚、利比亚等战争、局势动荡地区。据了解,此次难民潮有大批难民选择前往德国。德国的经济发达,人口出生率和失业率都很低,政府和民众对难民持欢迎态度。

材料二 一个叙利亚家庭需要花费两年的家庭收入才有可能将家中的年轻人送到欧洲。到达欧洲后,他们要找到工作或者做买卖,再将攒下的钱寄回家里,让其他的家庭成员来团聚。

材料三 图 D1-5 为叙利亚及周边国家示意图和叙利亚难民避难地分布图。



叙利亚及周边国家示意图

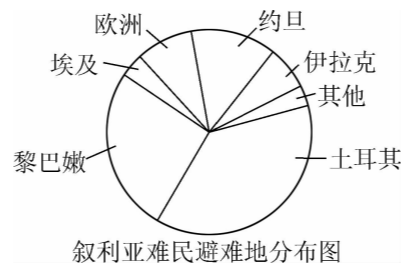


图 D1-5

(1)运用地理知识,分析大量叙利亚难民选择到德国避难的原因。(6 分)

(2)从人口角度分析大量难民涌入给德国带来的影响。(9 分)

(3)说出叙利亚难民避难地分布的突出特征,并简析其原因。(10 分)

17. (30 分)[2021—2022·黑龙江双鸭山第一中学第一次月考]读图完成下列问题。

新疆各区域的资源环境承载力存在巨大差异,其中准噶尔盆地南部最高,其次为伊犁河谷、塔里木盆地北部、准噶尔盆地北部、塔里木盆地西部、东疆地区,塔里木盆地南部最低。

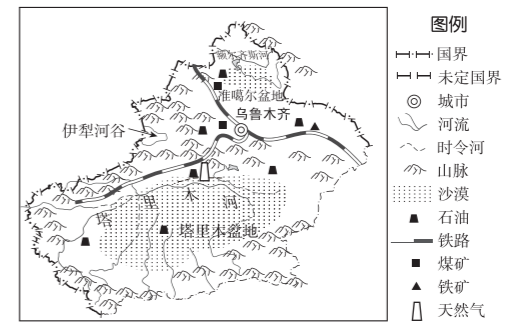


图 D1-6

(1)分析准噶尔盆地南部资源环境承载力最高的原因。(8 分)

(2)为提高塔里木盆地南部的资源环境承载力,当地应做好哪些方面的工作?(8 分)

(3)新疆的最大人口密度为 32 人/千米²,目前已达 13 人/千米²。有人认为“为促进该地区资源开发和经济发展,不宜限制人口”,但对人口环境学颇有研究的赵先生却认为这种看法不妥。试为赵先生的说法提供依据。(14 分)